

제 4 교시

사회탐구 영역(세계사)

성명 수험 번호

1. (가), (나)의 밑줄 친 '전쟁'에 대한 설명으로 옳은 것은?

(가) 이 책의 목적은 그리스 인과 비 그리스 인이 서로 전쟁을 하게 된 원인을 밝히는 데 있다. …(중략)… 테르모필라이에서 페르시아 왕을 기다리던 그리스 군대에는 300명의 스파르타 중무장 보병이 포함되어 있었다.
- 헤로도토스, 『역사』 -

(나) 우리 정치는 소수의 독점을 배제하고 권력을 다수에게 평등하게 분배하기 때문에 민주 정치라 불린다. …(중략)… 그들은 아주 어릴 때부터 비인간적 군사 훈련을 통해 용기를 함양하지만, 우리는 개인의 자유를 존중하면서도 그들과의 전쟁에서 결코 밀리지 않고 있다.
- 페리클레스의 전몰자 추도사 -

- ① (가) - 아테네는 델로스 동맹의 맹주가 되었다.
- ② (가) - 마케도니아가 승리하여 그리스의 패권을 장악하였다.
- ③ (나) - 아테네는 스파르타와 단결하여 싸웠다.
- ④ (나) - 아테네에서 민주 정치가 발전하는 계기가 되었다.
- ⑤ (가), (나) - 그리스 폴리스와 페르시아의 전쟁이다.

2. (가)에 대한 설명으로 옳은 것을 <보기>에서 고른 것은?

〈게르만 족의 이동〉

(가)는 중세 유럽 역사에서 주도적인 역할을 하였습니다.

— <보기> —

- ㄱ. 황제가 교회의 수장을 겸하였다.
- ㄴ. 공화정의 위기로 삼두 정치가 등장하였다.
- ㄷ. 서로마 황제가 된 카롤루스 대제 때 전성기를 맞이하였다.
- ㄹ. 가톨릭(아타나시우스 파)을 수용함으로써 로마 인들과 융합하였다.

- ① ㄱ, ㄴ ② ㄱ, ㄷ ③ ㄴ, ㄷ ④ ㄴ, ㄹ ⑤ ㄷ, ㄹ

3. 자료와 관련된 왕조의 경제 상황에 대한 설명으로 옳지 않은 것은? [3점]

새벽 4시, 절의 목어 소리와 종소리가 새벽을 알리면 하루가 시작된다. 성문이 열리고 시장이 서면 행상인들은 수레를 끌고 먹을거리를 소리 높여 팔러 돌아다니고, 성 밖에서는 고기나 과일을 실은 마차가 줄줄이 시장으로 들어온다. 이러한 광경은 깊은 밤까지 계속되었다.

- ① 동전과 함께 교자 등의 지폐가 사용되었다.
- ② 바닷길을 통한 이슬람과의 교류가 활발하였다.
- ③ 지주가 소유한 토지는 전호에 의해 경작되었다.
- ④ 행, 작 등 상공업자들의 동업 조합이 결성되었다.
- ⑤ 양쯔강 중·상류 지역이 쌀 주산지로 성장하였다.

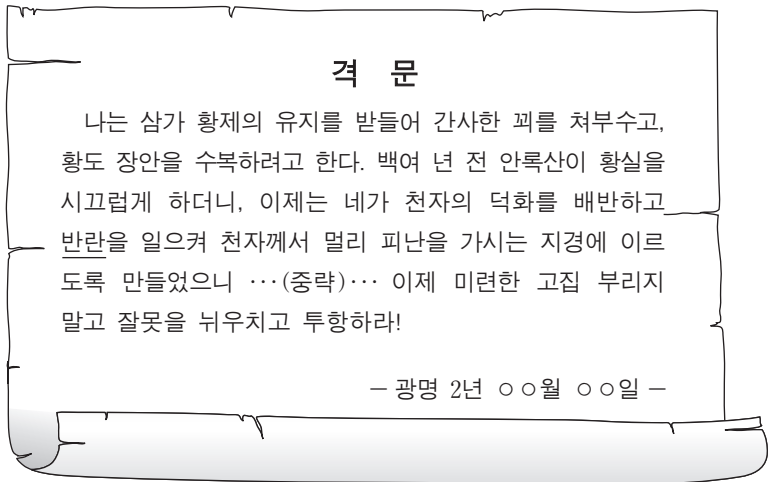
4. 밑줄 친 (가)와 (나)에 대한 설명으로 옳지 않은 것은? [3점]

영국 왕께서 (가)우리에게 중국 무역 독점권을 부여하셨습니다.

우리 나라와 무역할 때는 반드시 광저우에 있는 (나)우리를 통해서만 합니다.

- ① (가)는 중국 정부에 무역 제한 철폐를 요구하였다.
- ② (가)는 차, 도자기, 비단 등을 유럽에 판매해 큰 이익을 얻었다.
- ③ (나)는 중국 정부의 특허를 받아 서양과의 무역을 전담하였다.
- ④ (나)는 인도산 면화를 수입하여 가공한 후 되팔아 큰 이익을 얻었다.
- ⑤ (가)와 (나)의 무역을 통해 막대한 양의 은이 중국으로 유입되었다.

5. 밑줄 친 '반란'이 일어난 당시의 상황에 대한 설명으로 옳은 것은?



- ① 절도사들이 독자적인 지배권을 행사하였다.
- ② 대운하의 건설로 농민의 불만이 고조되었다.
- ③ 고구려 원정으로 대규모 인력이 동원되었다.
- ④ 교초가 남발되고 과중한 세금이 징수되었다.
- ⑤ 엄격한 사상 통제로 지식인의 불만이 고조되었다.

6. 다음 전쟁의 결과로 옳은 것은? [3점]

1619년 가톨릭 교도인 페르디난트 2세는 황제가 되자 보헤미아를 가톨릭 교회와 합스부르크 가에 복종시키기로 결의하고 전면전에 나섰다. 보헤미아의 신교도 귀족들은 팔츠 선제후 프리드리히 5세를 왕으로 받들고 이에 대항하여 싸웠다. 이것이 곧 외부의 간섭을 유발하여 덴마크, 스웨덴, 프랑스 등이 독일을 침공하면서 국제 전쟁으로 확대되었다.

- ① 낭트 칙령이 선포되었다.
- ② 예수회 설립을 촉진시켰다.
- ③ 신성 로마 제국이 공식적으로 해체되었다.
- ④ 독일 내에서 개인의 신앙 자유가 인정되었다.
- ⑤ 수장령이 선포되어 국왕이 교회를 지배하였다.

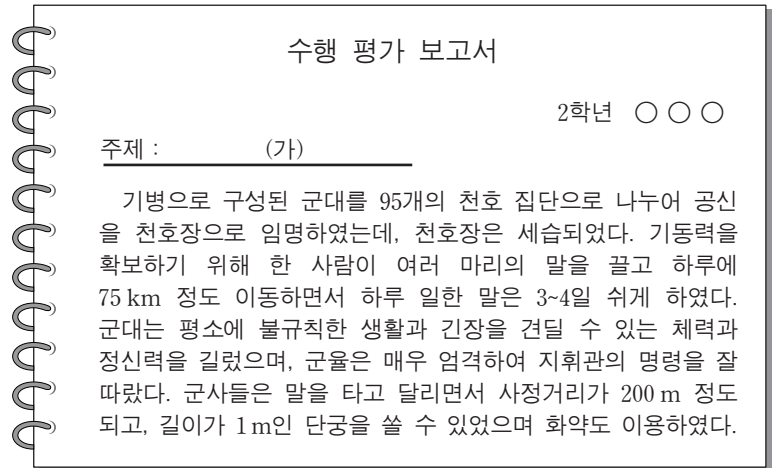
7. 그림에 나타난 사건의 배경으로 옳은 것을 <보기>에서 고른 것은? [3점]



- <보기> —
- ㄱ. 삼민주주의의 주창
 - ㄴ. 중·소 이념 분쟁
 - ㄷ. 신문화 운동의 전개
 - ㄹ. 대약진 운동의 실패

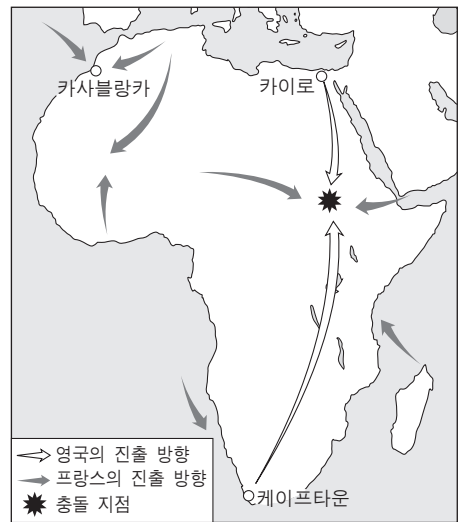
- ① ㄱ, ㄴ ② ㄱ, ㄷ ③ ㄴ, ㄷ ④ ㄴ, ㄹ ⑤ ㄷ, ㄹ

8. (가)에 들어갈 주제로 적절한 것은?



- ① 왕안석의 부국 강병책
- ② 대제국을 건설한 몽골군
- ③ 중국을 정복한 팔기군의 군사력
- ④ 맹안·모극체의 조직과 운영 방식
- ⑤ 화북 통치를 위한 북면·남면 관제

9. 지도가 보여주는 사건에 영향을 준 이념으로 적절하지 않은 것은? [3점]



- ① 민족주의 ② 인종주의 ③ 전체주의
- ④ 제국주의 ⑤ 사회 진화론

10. 밑줄 친 '이 나라'와 관련된 설명으로 옳은 것을 <보기>에서 고른 것은?

- 이 나라에서는 13세기에 아스텍 문명이 발달하였다. 당시 수도 테노치티틀란은 대규모 계획 도시였다.
- 이 나라는 알라모 전투로 유명한 텍사스 전쟁에서 패함으로써 광활한 캘리포니아와 텍사스를 미국에 빼앗겼다.

- <보기> —
- ㄱ. 포르투갈로부터 독립하였다.
 - ㄴ. 북미 자유 무역 협정(NAFTA)을 체결하였다.
 - ㄷ. 유럽의 가격 혁명을 유발한 은의 주요 산출지였다.
 - ㄹ. 대륙 횡단 철도의 완성으로 경제적 통일을 이루었다.

- ① ㄱ, ㄴ ② ㄱ, ㄷ ③ ㄴ, ㄷ ④ ㄴ, ㄹ ⑤ ㄷ, ㄹ

11. (가)~(마)에 해당하는 학술·사상에 대한 설명으로 적절한 것은? [3점]

학술·사상	대표 저작
(가)	사서대전, 오경대전
(나)	왕양명선생전집
(다)	본초강목, 농정전서, 천공개물
(라)	강희자전, 고금도서집성, 사고전서
(마)	기하원본, 천주실의, 곤여만국전도

- ① (가)는 성리학을 관학으로 삼은 것에 대한 반발로 등장하였다.
- ② (나)는 형식화되는 경향을 보이면서 공양학의 비판을 받았다.
- ③ (다)는 서양 문물 전래에 자극받은 실용적인 학문이었다.
- ④ (라)는 청말 변법자강 운동의 이론적 토대가 되었다.
- ⑤ (마)는 인과 예를 중심으로 한 도덕 정치를 강조하였다.

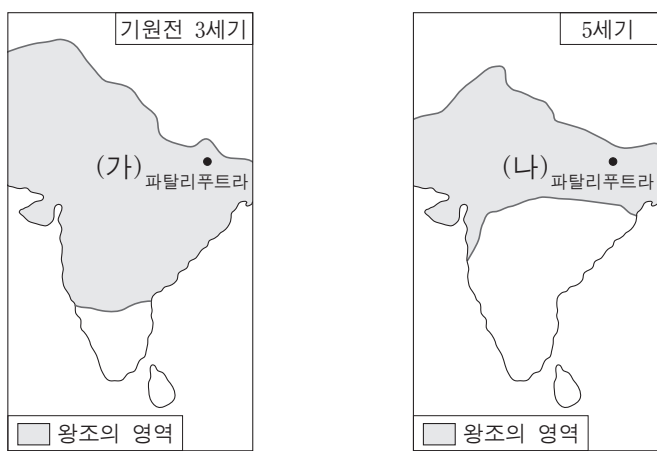
12. 자료와 관련된 전쟁의 직접적인 결과로 옳은 것은? [3점]

○ 교황 인노켄티우스 3세께서 성전을 촉구하셨다. 하지만 베네치아에 집결한 군사의 수는 기대에 훨씬 못 미쳤다. 차질 없이 수송 선단을 준비한 베네치아는 궁지에 몰린 군사들에게 타협안을 제시하였다.
- 1202년 ○○월 ○○일 로베르토의 일기 -

○ 그 야만인들은 성상을 짓밟고, 순교자들의 유물을 시궁창에 던졌으며, 크리스트의 몸을 찢어 여기저기 내버렸다. 성 소피아 성당의 성스러운 제단을 산산조각 부수어 병사들에게 나누어 주었다.
- 1204년 ○○월 ○○일 니케타스의 일기 -

- ① 예루살렘 왕국이 세워졌다.
- ② 황제에 의해 성상 숭배 금지령이 내려졌다.
- ③ 클레르몽에서 성전을 호소하는 대책 회의가 열렸다.
- ④ 비잔티움 제국은 군관구 제를 실시해 국방을 강화하였다.
- ⑤ 십자군이 콘스탄티노플을 점령한 후 라틴 제국을 세웠다.

13. 지도에 나타난 (가), (나) 왕조에 대한 설명으로 옳은 것은?



- ① (가)의 전성기는 아소카 왕 때이다.
- ② (가) 시기를 대표하는 유적은 아잔타 석굴 사원이다.
- ③ (나) 시기에 간다라 미술이 형성되었다.
- ④ (나) 시기에 대승 불교가 크게 성장하였다.
- ⑤ (가), (나) 시기 모두 힌두 교가 유행하였다.

14. 자료의 인물에 대한 설명으로 옳은 것은?

서거 70주년

약 력

1867년 응예 안에서 출생
1885년 프랑스 식민지가 되자 근왕 운동에 관여
1904년 베트남 유신회 조직
1905년 『월남 망국사』 저술
1912년 베트남 광복회 조직
⋮
1940년 서거

어 룩

아, 우리는 최근 30년 동안 홍수와 전쟁에 시달리면서도 간신히 살아남았다. 게다가 프랑스 인의 악랄한 책략 앞에서 잠시도 지탱할 수 없을 정도로 착취당하고 있다. 우리의 후손이 끊겨 버릴 날도 멀지 않을 것이다.

- ① 독립을 약속한 미국을 지원하였다.
- ② 스와데시·스와라지 운동을 전개하였다.
- ③ 독립을 지키기 위해 불평등 조약을 감수하였다.
- ④ 일본에 유학생을 파견하는 동유 운동을 전개하였다.
- ⑤ 지식인 중심의 민족 운동 단체인 이슬람 동맹을 결성하였다.

15. (가), (나) 시기 사이에 들어갈 장면으로 적절한 것은?



- ① 셀주크 튀르크가 바그다드를 정복하는 장면
- ② 아바스 왕조가 탈라스 전투에서 승리하는 장면
- ③ 오미야드 왕조가 이베리아 반도를 정복하는 장면
- ④ 이슬람 교도들이 아라비아 반도를 정복하는 장면
- ⑤ 이슬람 세력이 인도에 침입하여 이슬람 왕조를 건설하는 장면

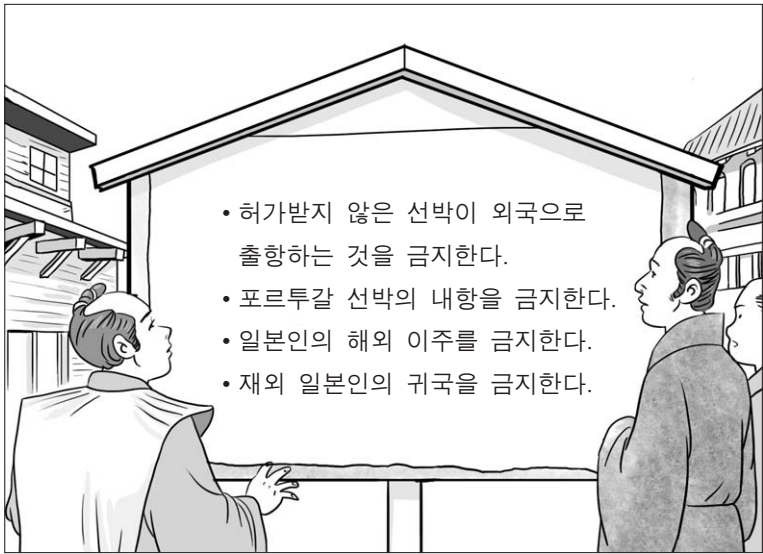
16. 자료가 보여주는 경제 상황에 대한 각국의 대처 노력을 설명한 것으로 옳은 것은? [3점]

큰손이든 작은손이든 증시의 대활황으로 의기양양하던 사람들은 하루아침에 빈털터리가 되고 말았다. ... (중략) ... 몇 주 안 되는 짧은 기간 동안 300억 달러라는 거금이 흔적도 없이 사라져 버렸다.

<주요 국가의 실업률>

- ① 프랑스-독일의 공업 지대인 루르를 점령하였다.
- ② 독일-관세 동맹을 결성하여 경제 통합을 피하였다.
- ③ 영국-영연방을 결성하고 블록 경제권을 형성하였다.
- ④ 러시아-자본주의 요소를 도입한 신경제 정책(NEP)을 채택하였다.
- ⑤ 이탈리아-파시스트 당이 노동 운동을 진압하고 독재 정권을 수립하였다.

17. 다음 포고령으로 나타난 결과에 대한 옳은 설명을 <보기>에서 고른 것은?



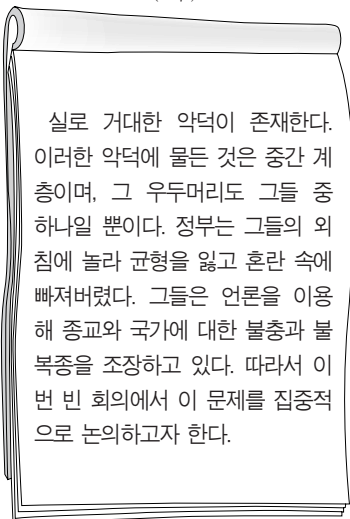
— <보기> —

- ㄱ. 크리스트 교가 금지되었다.
- ㄴ. 막부의 지배 체제가 흔들렸다.
- ㄷ. 나가사키를 통한 네덜란드와의 무역이 허용되었다.
- ㄹ. 일본 고유의 색채를 띠는 국풍 문화가 발달하였다.


- ① ㄱ, ㄴ ② ㄱ, ㄷ ③ ㄴ, ㄷ ④ ㄴ, ㄹ ⑤ ㄷ, ㄹ

18. (가), (나)와 관련된 설명으로 옳지 않은 것은? [3점]

(가)



(나)



- ① (가) 주장은 신성 동맹과 4국 동맹으로 구체화되었다.
- ② (가) 주장은 러시아에서 계몽 전체 군주제를 성립시켰다.
- ③ (나) 주장은 프랑스에서는 2월 혁명으로 구체화되었다.
- ④ (나) 주장은 산업 혁명으로 대두된 노동자의 힘을 반영한 것이다.
- ⑤ (가), (나) 주장은 자유주의에 대한 서로 다른 입장을 반영하고 있다.

19. 그림이 보여주는 시대의 문화적 특징에 대한 옳은 설명을 <보기>에서 고른 것은? [3점]



— <보기> —

- ㄱ. 민간 신앙이 도가 사상과 결합하여 도교가 성립되었다.
- ㄴ. 산문이 유행하여 구양수, 소식과 같은 문장가가 나왔다.
- ㄷ. 왕희지, 고개지 등으로 대표되는 귀족 문화가 발달하였다.
- ㄹ. 채륜이 종이를 발명하여 학문의 보급에 크게 기여하였다.

- ① ㄱ, ㄴ ② ㄱ, ㄷ ③ ㄴ, ㄷ ④ ㄴ, ㄹ ⑤ ㄷ, ㄹ

20. 다음 노래가 만들어졌던 당시의 유럽 사회의 모습으로 적절하지 않은 것은?

아! 행복한 사람, 아! 행복한 그대여,
 삽과 쟁기 들고 땀 흘리면서도
 즐거움 속에 일하고
 자기 일을 통제 받지 않았었네.
 이제는 수많은 공장 안에
 몰려 있는 인파 속에
 치솟은 굴뚝들은 검은 구름 내뿜는데
 일하라고 울려대는 차가운 종소리,
 온 사방엔 노예 같은 노동자들이 산다네.

— 영국 방직공의 노래 —

- ① 열차표를 확인하는 차장들
- ② 만국 박람회장에 운집한 시민들
- ③ 대서양을 횡단하는 증기선의 선원들
- ④ 오언(오웬)의 사회주의 강연을 듣는 청중들
- ⑤ 왕에게 도시 자치권을 요구하는 상인·수공업자들

* 확인 사항

○ 답안지의 해당란에 필요한 내용을 정확히 기입(표기)했는지 확인하십시오.